





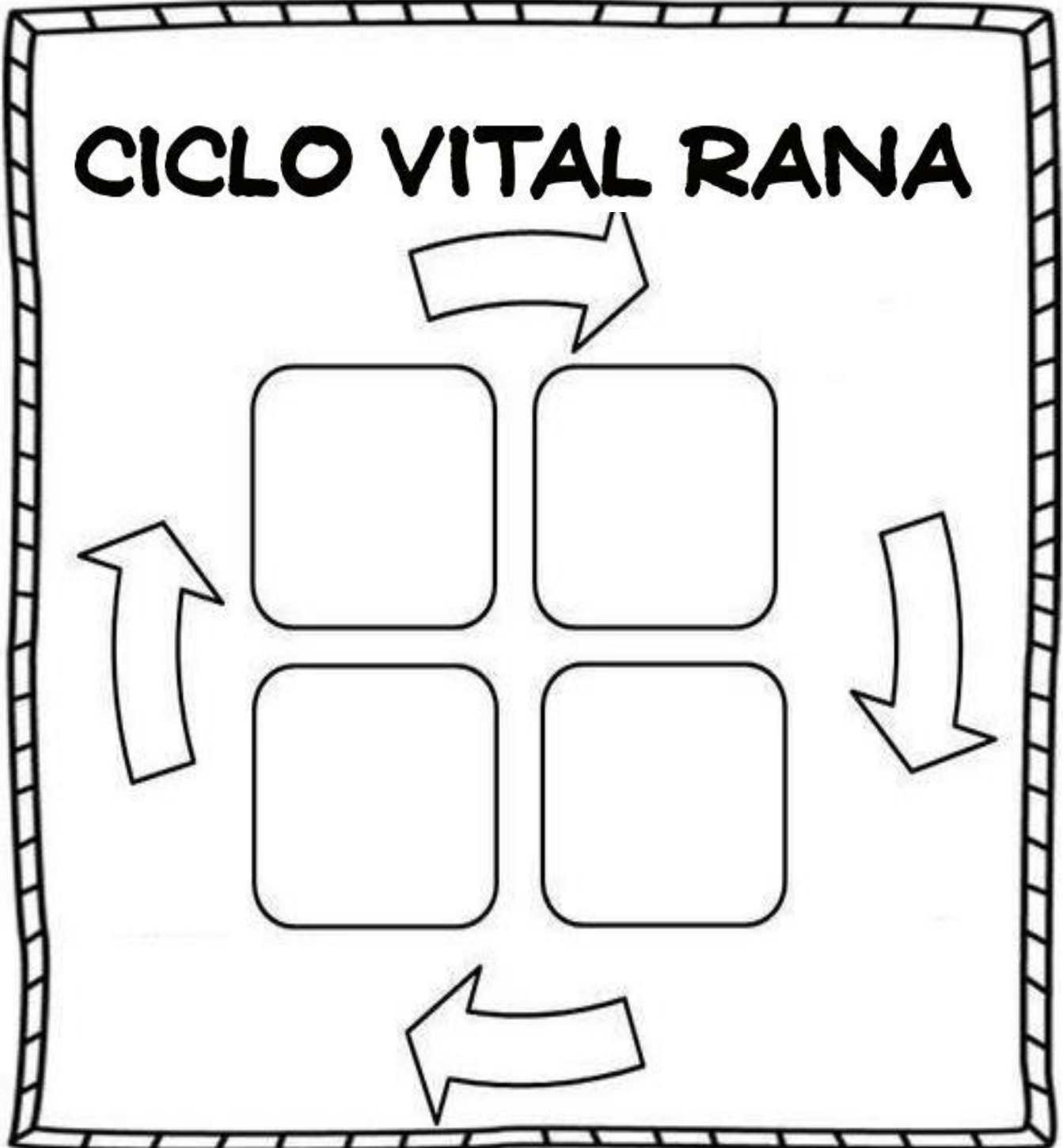
Unidad K.5: Organismos vivos y no vivos
Ciencias
Otra Evidencia – Ciclos de vida de los animales

- I. Recorta las ilustraciones y pégalas en el espacio correspondiente según el ciclo de vida de la rana.





Unidad K.5: Organismos vivos y no vivos
Ciencias
Otra Evidencia – Ciclos de vida de los animales





Unidad K.5: Organismos vivos y no vivos
Ciencias
Otra Evidencia – Ciclos de vida de los animales

II. Observa esta ilustración y menciona en qué se parece al Ciclo de vida de la rana y por qué.

Completando la siguiente oración: Se parece al Ciclo de vida de la rana en que: _____

